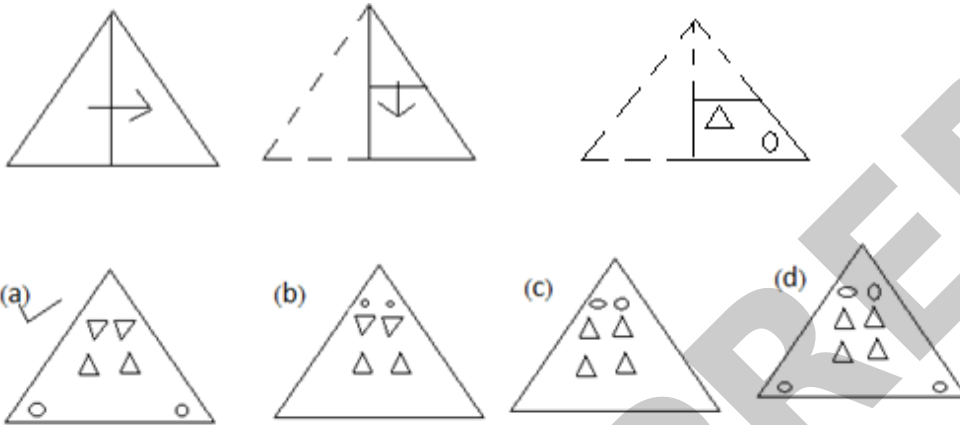


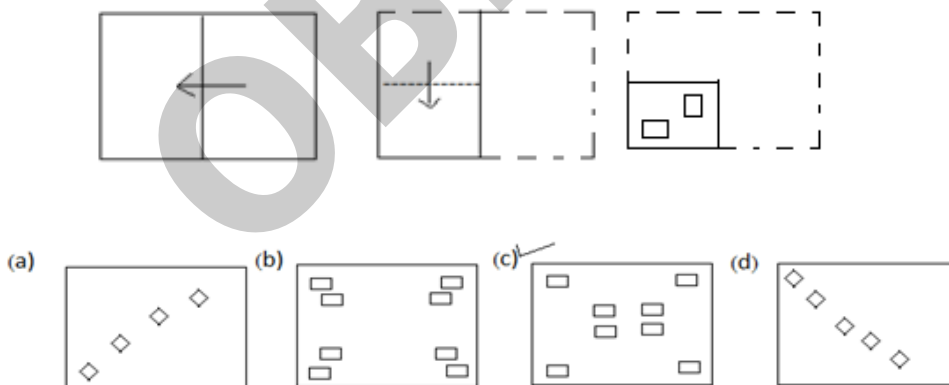
## Paper Cutting

Q1 एक कागज के टुकड़े को नीचे दिखाए अनुसार मोड़ा व काटा जाता है तो खोलने पर यह कागज कैसा दिखाई देगा ?



ANS = A

Q2 एक कागज के टुकड़े को नीचे दिखाए अनुसार मोड़ा व काटा जाता है तो खोलने पर यह कागज कैसा दिखाई देगा ?



ANS = C

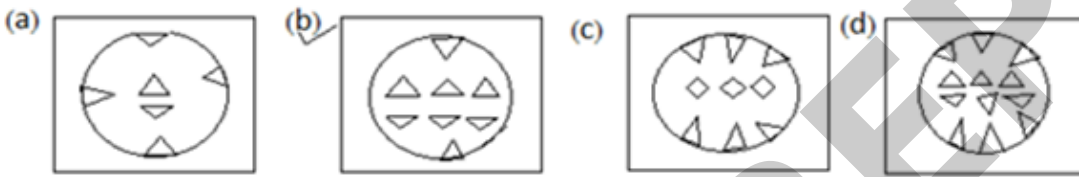
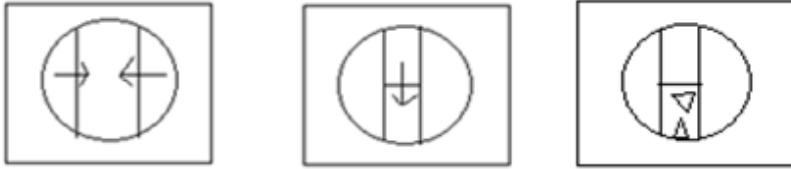
 **Video/Live Classes**

 **Mock Test Series**

 **Discussion Forum**

"भीड़ हमेशा आसान रास्ते पर चलती है, जरूरी नहीं वो सही है। अपने रास्ते खुद चुनिए, आपको आपसे बेहतर और कोई नहीं जानता।"

Q3 एक कागज के टुकड़े को नीचे दिखाए अनुसार मोड़ा व काटा जाता है तो खोलने पर यह कागज कैसा दिखाई देगा ?



ANS = b

Visit on:- <https://youtu.be/6BE1Aejyoo>

[#Paper cutting](#) [#folding Reasoning](#) [#Non verbal Reasoning Trick](#)

*Sharing Is Caring*

*If you found it useful, don't forget to share your friends.*

 **Video/Live Classes**

 **Mock Test Series**

 **Discussion Forum**

"भीड़ हमेशा आसान रास्ते पर चलती है, जरूरी नहीं वो सही है। अपने रास्ते खुद चुनिए, आपको आपसे बेहतर और कोई नहीं जानता।"